

ВСЕРОССИЙСКАЯ ОЛИМПИАДА ШКОЛЬНИКОВ ПО ИСТОРИИ 2024-2025

ШКОЛЬНЫЙ ЭТАП

7 КЛАСС.

112017

Продолжительность олимпиады 90 мин.

Максимальное кол-во баллов – 100.

№ задания	1	2	3	4	5	Итого
Кол-во баллов	17	18	19	12	4	70

Задание 1(максимальный балл-17).

Задание 1.1. Выберите по 1 верному ответу в каждом задании (по 2 балла за каждый правильный ответ, максимальный балл – 12).

1. Какое из перечисленных событий не относится к истории Московского княжества?

- А) Мамаево побоище Б) Ледовое побоище
В) Стояние на Угре Г) Битва на реке Воже;

2. При каком правителе был построен краснокирпичный московский Кремль?

- А) Иван Грозный Б) Иван III Великий
В) Иван Калита Г) Дмитрий Донской

3. Какой из перечисленных методов государственного управления перестал применяться в России в середине XVIвека?

- А) местничество Б) приказная система
В) кормления Г) Земские соборы

4. Кто из перечисленных лиц был современником великого московского князи Ивана III?

- А) Христофор Колумб Б) Марко Поло
В) Ричард Львиное Сердце Г) Чингисхан

5. Какой из перечисленных терминов использовался для обозначения основного свободного земледельческого населения на Руси XI – XIVвв.?

- А) дружинники Б) вотчинники
В) холопы Г) смерды

6. В годы правления какого царя было учреждено патриаршество?

- А) Федор Иоаннович Б) Борис Годунов
В) Иван III Г) ИванIVГрозный

1	2	3	4	5	6
Б	Б	В	А	Г	А

Задание 1.2. Установите соответствие между средневековыми правителями и империями, которыми они управляли (всего 5 баллов): по 1 баллу за каждый правильный ответ; 1 балла за ответ на вопрос):

- | | |
|------------------------------|--------------------|
| 1) Византийская империя | А) Карл Великий |
| 2) Священная римская империя | Б) Юстиниан I |
| 3) Каролингская империя | В) Оттон I Великий |
| 4) Османская империя | Г) Баязид I |

1	2	3	4
Б	В	А	Г

Какое из указанных государств позже других получило статус империи? (1 балл)

Ответ: Османская империя

Задание 2. Прочтите приведённые ниже утверждения. Заполните таблицу, указав, «да» ; «нет» (за каждый верный ответ 2 балла; максимально 20 баллов)

- 1) В Древней Руси господствовало натуральное хозяйство.
- 2) В результате Ливонской войны Россия потеряла Смоленск.
- 3) Иван III Великий был внуком Дмитрия Донского.
- 4) На Руси в XIII – XIV веках баскаками называли сборщиков дани.
- 5) При Дмитрии Донском главой русской церкви был митрополит.
- 6) Иван III и Василий III положили начало объединению русских земель вокруг Москвы.
- 7) Великое княжество Литовское было союзником Московской Руси в Куликовской битве.
- 8) При Ярославе Мудром был учрежден общерусский свод законов.
- 9) Иван Калита был сыном основателя Московского княжества.
- 10) Рюриковичи правили на Руси в течение семи столетий.

1	2	3	4	5	6	7	8	9	10
+	-	-	+	+	-	-	+	-	+

Задание 3.

Задание 3.1. Расположите в хронологической последовательности (по времени) события, описанные в представленных ниже исторических источниках (15 баллов: за каждый правильный ответ 3 балла)

А) ... В тот год сказала дружина Игорю: "Отроки Свенельда изготовились оружием и одеждой, а мы наги. Пойдем, князь, с нами за данью, и себе добудешь, и нам". И послушал их Игорь - пошел к древлянам за данью и прибавил к прежней дани новую, и творили насилие над ними мужи его.

Б) ... и была у них усобица, и стали воевать друг с другом. И сказали себе: «Поищем себе князя, который бы владел нами и судил по праву». И пошли за море к варягам, к руси. ... Сказали руси чудь, словене, кривичи и весь: «Земля наша велика и обильна, а порядка в ней нет. Приходите княжить и владеть нами».

В) Пошел Олег на греков ; взял же с собою множество варягов, и славян, и чуди, и кривичей, и мерю, и древлян, и радимичей, и полян, и северян, и вятичей, и хорватов, и дулебов, и тиверцев, известных как толмачи... И с этими всеми пошел Олег на конях и в кораблях... И пришел к Царьграду.

Г) Ольга с сыном Святославом собрала много храбрых воинов и пошла на Деревскую землю. И вышли древляне против нее. И когда сошлись оба войска для схватки, Святослав метнул копьё в древлян, и копьё пролетело между ушей коня и ударило коня по ногам, ибо был Святослав еще совсем мал.

Д) И стал Владимир княжить в Киеве один, и поставил кумиры на холме за теремным двором: деревянного Перуна с серебряной головой и золотыми усами, и Хорса, Дажьбога, и Стрибога, и Симаргла, и Мокошь. И приносили им жертвы, называя их богами, и приводили своих сыновей и дочерей, и приносили жертвы бесам, и оскверняли землю жертвоприношениями своими. И осквернилась кровью земля Русская и холм тот.

1	2	3	4	5
Б	В	А	Г	Д

Задание 3.2. Какое из перечисленных понятий (имён, дат, событий) является лишним в данном ряду? Лишнее слово (словосочетание) напишите и объясните причину исключения (за правильное указание лишнего слова – по 1 баллу, за правильное объяснение еще по 1 баллу, всего – 8 баллов)

1) боярин, окольник, дьяк, тиун, холоп, огнищанин


2) Ягайло, Батый, Тимучин, Тохтамыш, Мамай, Ахмат.

3) семибоярщина, крестоцеловальная запись, народное ополчение, опричное войско, восстание Ивана Болотникова, совет всей земли.


4) кафтан, армяк, береста, тулуп, косоворотка, зипун

Задание 4.

Задание 4.1. Подпишите имена русских князей и расположите в хронологической последовательности их правления (по 2 балла за правильное указание имени князя и еще 2 балла за правильное указание хронологической последовательности, всего – 14 баллов):



А) Александр Невский



Б) Дмитрий Донской



б) Иван III

г) Иван Грозный



д) Светослав

е) Сростлав Мудрый

1	2	3	4	5	6
<u>Б</u>	<u>В</u>	<u>А</u>	<u>Д</u>	<u>Е</u>	<u>Г</u>

Задание 4.2. Подпишите название архитектурных памятников, изображенных на иллюстрациях и укажите город, где они находятся (за правильное указание названия архитектурного памятника по 2 балла, за правильное указание города по 1 баллу, всего – 15 баллов)

1.




2.




3.



4.



5.



1	2	3	4	5
<u>Софийский собор</u>	<u>Чудотворный собор</u>			<u>Троицкий собор</u>

